

**Proves d'accés a cicles formatius de grau superior de formació professional inicial,
d'ensenyaments d'arts plàstiques i disseny, i d'ensenyaments esportius 2014**

**Psicologia i sociologia
Sèrie 1**

Dades de la persona aspirant

Cognoms i nom

DNI

Qualificació

INSTRUCCIONS

La prova consta de dues parts:

- **PRIMERA PART:** Comentari de text (A). Aquesta part val 4 punts.
- **SEGONA PART:** Escolliu UNA de les dues opcions (B1 o B2). Responeu a TRES de les cinc qüestions que es proposen en l'opció escollida. Indiqueu clarament quines heu escollit. Si responeu a més de tres qüestions, només es valoraran les tres primeres. Aquesta part val 6 punts.



PRIMERA PART (A): comentari de text.

Llegiu el text següent i responeu a les qüestions plantejades a continuació.

[4 punts en total]

L'experiment original [...] és àmpliament conegut [...]. El subjecte, el gos, era preparat per a l'experiment. Se li implantava un petit tub de vidre en el conducte salival, amb la finalitat que la saliva pogués ser recollida en un petit recipient. A continuació, es col·locaven uns arnesos al gos i se li presentaven estímuls. En primer lloc, el so d'un metrònom i, seguidament, una petita quantitat de menjar en pols, que provocava en el gos salivació abundant. Després de repetir deu vegades la combinació metrònom-menjar, s'observava que el so del metrònom provocava per si sol la salivació. És veritat que inicialment no eren més que unes poques gotes de saliva, però després de vint nous emparellaments el gos salivava abundantament davant el so del metrònom.

Aquest senzill experiment proporciona un exemple de l'adquisició d'una expectativa d'estímul: l'animal aprenia finalment a predir la presentació del menjar quan sonava el metrònom. La regularitat temporal dels dos fets, és a dir, el fet que apareguessin repetidament en estreta proximitat temporal, permetia que l'animal es formés una expectativa o, en termes tradicionals, que aprengués una associació entre dos estímuls.

Traducció feta a partir del text de
Roger M. TARPY. *Aprendizaje y motivación animal*.
Madrid: Debate, 1989

1. Indiqueu en quin corrent de la psicologia podem emmarcar aquest text.

[1 punt]

2. Esmenteu, com a mínim, dos autors representatius d'aquest corrent psicològic.

[1 punt]

3. Definiu els termes següents: *estímul condicionat*, *estímul incondicionat*, *resposta condicionada* i *resposta incondicionada*. Esmenteu un exemple extret del text corresponent a cada terme.



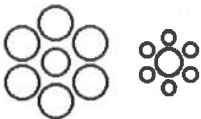


[2 punts]

SEGONA PART (B1)

De les cinc qüestions següents, escolliu-ne TRES.

1. Relacioneu el nom de les diferents lleis del gestaltisme amb la frase que les defineix i la representació que les identifica. Empleneu les caselles en blanc amb la lletra i el número corresponents a cada llei.

[2 punts]

<i>Lleis del gestaltisme</i>	<i>Frase</i>	<i>Representació</i>
A. Llei de proximitat	1. La percepció d'un element està influïda per la relació que té amb els altres elements del conjunt	a. 
B. Llei de contrast	2. Tendència a percebre unitats els estímuls que tenen una continuïtat	b. 
C. Llei de semblança	3. Els estímuls que són pròxims tendeixen a agrupar-se	c. 
D. Llei de continuïtat	4. Tendència a percebre els objectes com a entitats totals, encara que algunes parts no hi siguin o estiguin ocultes	d. 
E. Llei de tancament	5. Els estímuls semblants pel que fa a la grandària, la forma o el color tendeixen a ser agrupats	e. 

A. -

B. -

C. -

D. -

E. -

2. Marqueu amb una × quines de les afirmacions següents són vertaderes i quines són falses.
[2 punts]

	<i>Vertader</i>	<i>Fals</i>
La psicologia diferencial estudia les diferències individuals que presenten els individus		
Una neurona té quatre parts principals: cos celular, dendrita, axó i terminacions sinàptiques		
La percepció consisteix a detectar quelcom a través dels sentits i dels receptors interns abans d'elaborar-ho o de tenir un significat		
El desplaçament és un mecanisme de defensa que consisteix a descarregar sentiments hostils sobre persones o objectes que no han suscitat aquestes emocions		
Una persona amb un trastorn de personalitat antisocial es caracteritza pel fet de ser presumptuosa, esnob, malcriada i explotadora. Sobrevalora la seva importància personal. Vol ser el centre d'atenció i dirigeix l'afecte cap a si mateixa més que cap als altres		

3. Empleneu la taula de sota amb els termes següents relacionats amb els sentits:
[2 punts]

- Activitat dels òrgans interns.
- Ones lluminoses i ones sonores.
- Posició corporal i moviment.
- Reacció dels músculs i de les parts del cos.
- Llum-foscor (visió) i sonoritat (audició).
- Contracció dels músculs llisos, substàncies nocives, etcètera.

<i>Tipus de receptors</i>	<i>Estímuls</i>	<i>Funció</i>
Exteroceptors		
Propioceptors		
Interoceptors		

4. Responen a les qüestions següents:

[2 punts]

a) Esmenteu dues branques de la psicologia bàsica.

b) Esmenteu dos trastorns perceptius.

c) Anomeneu dues distorsions cognitives.

d) Esmenteu dos components del sistema nerviós perifèric.

e) Esmenteu dues patologies cerebrals.

5. Definiu cadascun dels termes de la columna de l'esquerra.

[2 punts]

Genotip	
Motivació	
Estrès	
Caràcter	

SEGONA PART (B2)

De les cinc qüestions següents, escolliu-ne TRES.

1. Marqueu amb una × quines de les afirmacions següents són vertaderes i quines són falses.
[2 punts]

	<i>Vertader</i>	<i>Fals</i>
Es considera que la sociologia forma part de les ciències humanes, al costat de la psicologia, l'economia, l'antropologia i la història		
L'ésser humà és un ésser social; això vol dir que no necessita les persones del seu entorn per a poder sobreviure		
L'aculturació consisteix en la pèrdua d'elements culturals propis a causa del contacte amb altres cultures		
Segons l'estratificació social, les societats es poden classificar en igualitàries, de rang i de classes o castes		
El canvi social es caracteritza perquè és un fenomen col·lectiu, un canvi apreciable en el temps, que té una certa permanència i afecta el curs de la història		

2. Relacioneu cada tipus de percepció social amb la definició corresponent. Escriviu a les caselles de sota la lletra que correspon a cada número.
[2 punts]

1. Error de primàcia	a. Consisteix a percebre una relació on no n'hi ha cap o una relació més forta de la que existeix realment
2. Efecte d'halo	b. Les informacions que rebem d'altres persones no són dades aïllades, sinó que tenen relació entre si i per això les nostres impressions són unitàries i coherents
3. Personalitat implícita	c. La valoració del primer contacte condiciona la seqüència d'esdeveniments posterior
4. Correlació il·lusòria	d. A partir d'una característica que veiem en una persona, pressuposem que també té altres qualitats

1.

2.

3.

4.

3. Responen a les qüestions següents:

[2 punts]

a) Anomeneu dos agents que poden provocar canvis socials.

b) Indiqueu dues sortides professionals dels sociòlegs.

c) Esmenteu dues etapes del cicle vital de les persones.

d) Anomeneu dos mètodes de la psicologia social.

4. Expliqueu què són els agents de socialització i poseu-ne tres exemples, com a mínim.

[2 punts]

5. Definiu cadascun dels termes de la columna de l'esquerra.

[2 punts]

Socialització	
Percepció social	
Etnocentrisme	
Cognició social	

