

**Prova d'accés a Cicles formatius de grau mitjà de formació professional,
Ensenyaments d'esports i Ensenyaments d'arts plàstiques i disseny 2010**


**Ciències socials
Sèrie 1**

Dades de la persona aspirant

Cognoms i nom

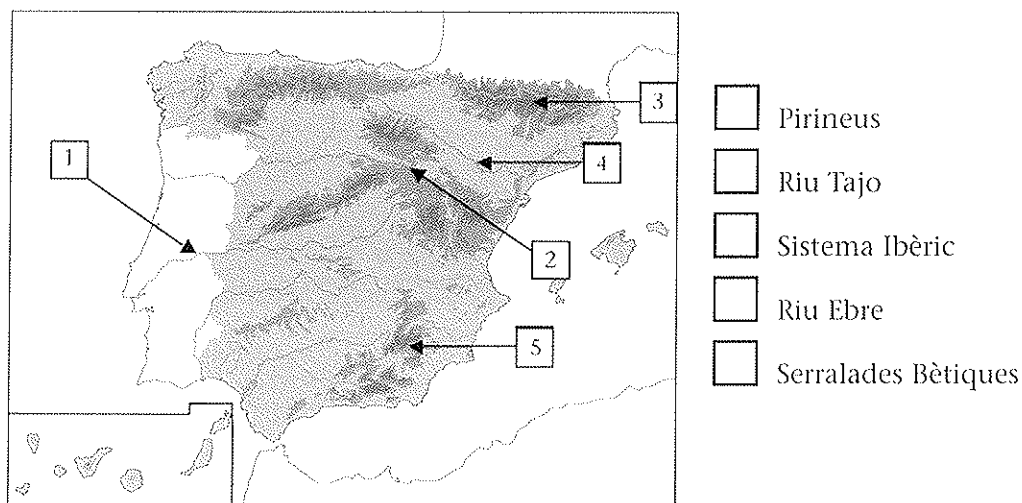
DNI

Qualificació



1. Observeu el mapa físic de la península Ibèrica, identifiqueu-hi els accidents geogràfics esmentats a la dreta i escriviu el número corresponent en la casella annexa.

[De 0 a 2 punts; es descomptaran 0,5 punts per cada resposta incorrecta]



2. Relacioneu cadascun dels esdeveniments històrics de la columna esquerra amb la data corresponent de la columna dreta. Escriviu la lletra adequada (A, B, C o D) en el parèntesi buit de la dreta.

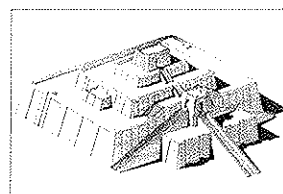



[De 0 a 2 punts; 0,5 punts per cada resposta correcta]

A) Revolució Francesa	476 ()
B) Descobriment d'Amèrica	3500 aC ()
C) Aparició de l'escriptura	1789 ()
D) Caiguda de l'Imperi romà	1492 ()

3. Relacioneu cadascuna de les imatges amb el nom del monument i de la civilització de l'edat antiga que li correspon. Escriviu la lletra adequada (A, B, C o D) en la casella buida de sota la imatge.

[De 0 a 2 punts; 0,5 punts per cada resposta correcta]

- A) El Ziggurat d'Ur, Mesopotàmia
 B) El Colosseu de Roma, Roma
 C) El Partenó d'Atenes, Grècia
 D) Les piràmides de Gizeh, Egipte



4. Completeu les frases següents, que fan referència a l'estructura política actual de l'Estat espanyol, fent servir les expressions *sobirania nacional*, *monarquia parlamentària*, *poder executiu* i *Constitució*.

[De 0 a 2 punts; 0,5 punts per cada resposta correcta]

- a) La _____ reflecteix les normes que regulen el govern i garanteix els drets individuals i col·lectius dels ciutadans i ciutadanes d'un estat.
- b) La _____ indica que el poder resideix en mans de tots els ciutadans i ciutadanes que siguin més grans de divuit anys, independentment del lloc de residència, sempre que tinguin la nacionalitat.
- c) El Govern exerceix el _____. Està format pel president i els ministres i li corresponen les decisions sobre la política de l'Estat, l'administració dels recursos estatals, la defensa nacional i les relacions exteriors.
- d) Espanya és una _____ perquè el cap de l'Estat és el rei, que és el símbol de l'Estat. Les funcions bàsiques del rei són de representació dins del país i en les relacions internacionals.

5. Col·loqueu els conceptes següents, relacionats amb l'estructura demogràfica de la població, al costat de la definició corresponent: *índex de fecunditat*, *saldo migratori*, *taxa de mortalitat*, *creixement natural o vegetatiu* i *taxa de natalitat*.

[De 0 a 2 punts; es descomptaran 0,5 punts per cada resposta incorrecta]

Concepte	Definició
	Relaciona la població global d'un país amb els naixements. Es calcula amb la fórmula següent: $\frac{\text{Nombre de naixements en un any}}{\text{Població total}} \times 1.000$
	Relaciona la població global d'un país amb les defuncions. Es calcula amb la fórmula següent: $\frac{\text{Nombre de defuncions en un any}}{\text{Població total}} \times 1.000$
	Indica el nombre mitjà de fills per dona al llarg de la seva vida.
	Indica la diferència que hi ha entre el nombre de naixements i el de defuncions en un país o indret determinat.
	Indica la diferència que hi ha entre el volum de la immigració i el de l'emigració en un país o indret determinat.

