

**Prova d'accés a Cicles formatius de grau mitjà de formació professional,  
Ensenyaments d'esports i Ensenyaments d'arts plàstiques i disseny 2010**

---

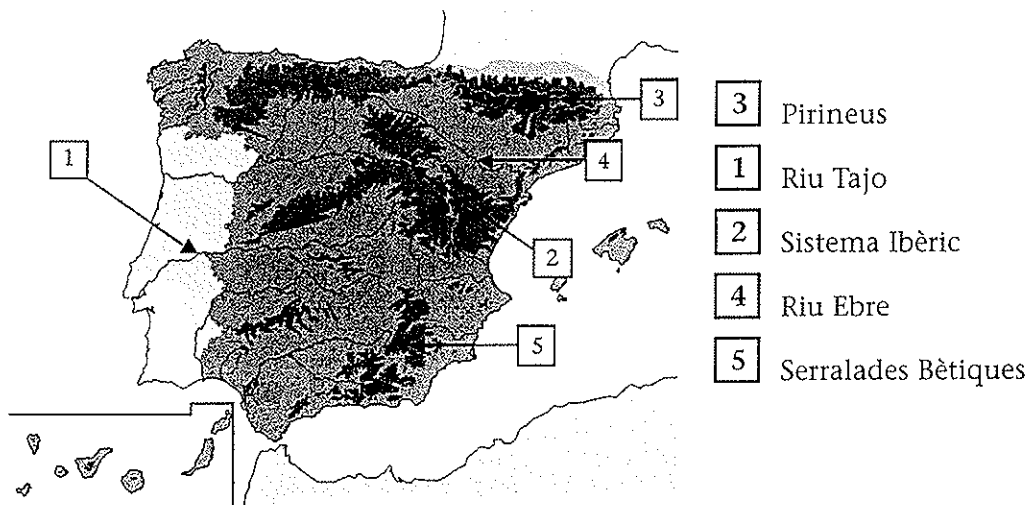
**Ciències socials  
Sèrie 1**

**SOLUCIONS,  
CRITERIS DE CORRECCIÓ  
I PUNTUACIÓ**



1. Observeu el mapa físic de la península Ibèrica, identifiqueu-hi els accidents geogràfics esmentats a la dreta i escriviu el número corresponent en la casella annexa.

[De 0 a 2 punts; es descomptaran 0,5 punts per cada resposta incorrecta]



2. Relacioneu cadascun dels esdeveniments històrics de la columna esquerra amb la data corresponent de la columna dreta. Escriviu la lletra adequada (A, B, C o D) en el parèntesi buit de la dreta.


[De 0 a 2 punts; 0,5 punts per cada resposta correcta]

- |                             |             |
|-----------------------------|-------------|
| A) Revolució Francesa       | 476 (D)     |
| B) Descobriments d'Amèrica  | 3500 aC (C) |
| C) Aparició de l'escriptura | 1789 (A)    |
| D) Caiguda de l'Imperi romà | 1492 (B)    |


3. Relacioneu cadascuna de les imatges amb el nom del monument i de la civilització de l'edat antiga que li correspon. Escriviu la lletra adequada (A, B, C o D) en la casella buida de sota la imatge.

[De 0 a 2 punts; 0,5 punts per cada resposta correcta]


- A) El Ziggurat d'Ur, Mesopotàmia  
B) El Colosseu de Roma, Roma  
C) El Partenó d'Atenes, Grècia  
D) Les piràmides de Gizeh, Egipte



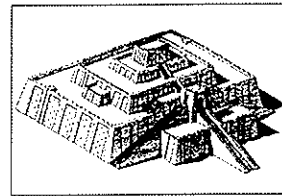
B



C



D



A

4. Completeu les frases següents, que fan referència a l'estructura política actual de l'Estat espanyol, fent servir les expressions *sobirania nacional*, *monarquia parlamentària*, *poder executiu* i *Constitució*.

[De 0 a 2 punts; 0,5 punts per cada resposta correcta]

- a) La **Constitució** reflecteix les normes que regulen el govern i garanteix els drets individuals i col·lectius dels ciutadans i ciutadanes d'un estat.
- b) La **sobirania nacional** indica que el poder resideix en mans de tots els ciutadans i ciutadanes que siguin més grans de 18 anys, independentment del lloc de residència, sempre que tinguin la nacionalitat.
- c) El Govern exerceix el **poder executiu**. Està format pel president i els ministres i li corresponen les decisions sobre la política de l'Estat, l'administració dels recursos estatals, la defensa nacional i les relacions exteriors.
- d) Espanya és una **monarquia parlamentària** perquè el cap de l'Estat és el rei, que és el símbol de l'Estat. Les funcions bàsiques del rei són de representació dins del país i en les relacions internacionals.

5. Col·loqueu els conceptes següents, relacionats amb l'estructura demogràfica de la població, al costat de la definició corresponent: *índex de fecunditat*, *saldo migratori*, *taxa de mortalitat*, *creixement natural o vegetatiu* i *taxa de natalitat*.

[De 0 a 2 punts; es descomptaran 0,5 punts per cada resposta incorrecta]

<i>Concepte</i>	<i>Definició</i>
Taxa de natalitat	Relaciona la població global d'un país amb els naixements. Es calcula amb la fórmula següent: $\frac{\text{Nombre de naixements en un any}}{\text{Població total}} \times 1.000$
Taxa de mortalitat	Relaciona la població global d'un país amb les defuncions. Es calcula amb la fórmula següent: $\frac{\text{Nombre de defuncions en un any}}{\text{Població total}} \times 1.000$
Índex de fecunditat	Indica el nombre mitjà de fills per dona al llarg de la seva vida.
Creixement natural o vegetatiu	Indica la diferència que hi ha entre el nombre de naixements i el de defuncions en un país o indret determinat.
Saldo migratori	Indica la diferència que hi ha entre el volum de la immigració i el de l'emigració en un país o indret determinat.



L'Institut d'Estudis Catalans ha tingut cura de la correcció lingüística i de l'edició d'aquesta prova d'accés