



**Proves d'accés a cicles formatius de grau mitjà de formació professional inicial,
d'ensenyaments d'arts plàstiques i disseny, i d'ensenyaments esportius 2013**

Competència social i ciutadana Sèrie 2

Dades de la persona aspirant

Cognoms i nom

DNI

Qualificació



1. Observeu el mapa polític d'Europa i relacioneu els números que hi apareixen amb els noms de capitals europees proposats al costat. Escriviu el número corresponent dins les caselles.
[1 punt: 0,25 punts per cada resposta correcta]



- Dublín
- Brussel·les
- Riga
- Varsòvia

2. Observeu el mapa de la península Ibèrica i relacioneu els números que hi apareixen amb els noms de rius proposats al costat. Escriviu el número corresponent dins les caselles.
[1 punt: 0,25 punts per cada resposta correcta]



- el Tajo
- el Duero
- el Guadalquivir
- l'Ebre

3. Observeu el mapa polític de Catalunya i relacioneu els números que hi apareixen amb els noms de comarques catalanes proposats al costat. Escriviu el número corresponent dins les caselles.
[1 punt: 0,25 punts per cada resposta correcta]



- Vallès Occidental
- Vall d'Aran
- Noguera
- Osona

4. Aparelleu cadascun dels noms de formes de relleu de la Terra amb la definició adequada de sota. Escriviu la lletra corresponent (A, B, C o D) dins les caselles de l'esquerra.

[1 punt: 0,25 punts per cada resposta correcta]

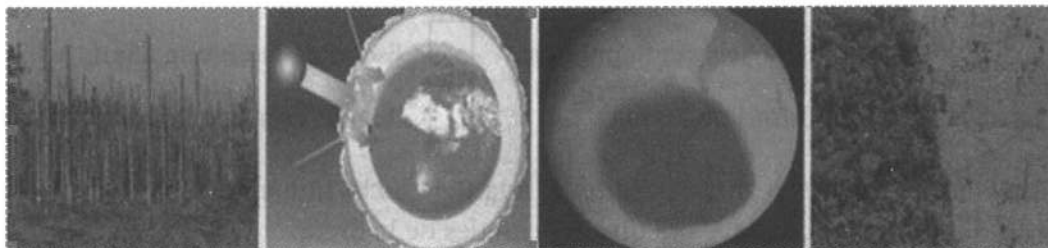
A) Depressió B) Plataforma continental C) Ria D) Península

- Llengua marina que penetra a la terra i ocupa el tram final d'una vall fluvial.
- Tros de terra envoltat d'aigua per tots els cantons llevat d'un.
- Zona situada a una altitud menor que les formacions de relleu del voltant.
- Continuació submarina dels continents.

5. Aparelleu cadascun dels problemes mediambientals amb la imatge adequada. Escriviu la lletra corresponent (A, B, C o D) dins les caselles de sota les imatges.

[1 punt: 0,25 punts per cada resposta correcta]

A) Desforestació B) Efecte d'hivernacle C) Forat de la capa d'ozó D) Pluja àcida



-
-
-
-

6. Digues quin dels dos elements de la Terra (A o B) és afectat pels agents contaminants, derivats de l'acció humana, presentats en el quadre de sota. Escriviu la lletra corresponent dins les caselles de la dreta.


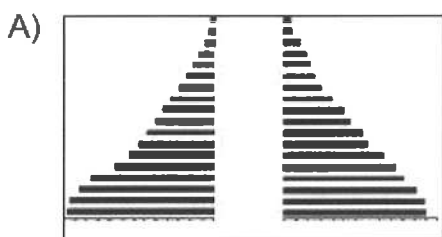
[1 punt: 0,25 punts per cada resposta correcta]

A) la hidrosfera B) l'atmosfera

Combustible que es crema en els vehicles	
Aigües residuals	
Fum i gasos emesos per fàbriques i centrals energètiques	
Vessament de cru	

7. Digueu a quina piràmide de població (A o B) correspon cadascun dels indicadors demogràfics de sota. Escriviu la lletra corresponent dins les caselles.

[1 punt: 0,25 punts per cada resposta correcta]



- Esperança de vida alta.
 Règim demogràfic modern.

- Població envellida.
 Taxa de natalitat alta.

8. Ordeneu els esdeveniments següents de la història d'Espanya del segle xx del més antic (1) al més modern (4). Escriviu el número corresponent (1, 2, 3 o 4) dins les caselles.

[1 punt: 0,25 punts per cada resposta correcta]

- Proclamació de la Segona República. Esclat de la Guerra Civil.
 Dictadura de Primo de Rivera. Regnat constitucional d'Alfons XIII.

9. Indiqueu si les frases següents, referents a la Revolució Industrial, són vertaderes (V) o falses (F). Escriviu la lletra V o F dins les caselles de la dreta.

[1 punt: 0,25 punts per cada resposta correcta]

La industrialització va començar a Gran Bretanya a la segona meitat del segle XIX	
Arran de la Segona Revolució Industrial, la indústria tèxtil va perdre el paper de lideratge, que va ser ocupat pel sector siderúrgic	
Durant la Segona Revolució Industrial, el carbó es va utilitzar com a combustible d'automòbil	
El ferrocarril és fruit de la combinació de dos dels avenços més importants de la Revolució Industrial: el vapor i el ferro	

10. Relacioneu els noms dels dirigents polítics catalans amb les formacions polítiques que lideren actualment. Escriviu la lletra corresponent (A, B, C o D) dins les caselles.

[1 punt: 0,25 punts per cada resposta correcta]

A) Joan Herrera B) Pere Navarro C) Artur Mas D) Oriol Junqueras

- Partit dels Socialistes de Catalunya (PSC) Convergència i Unió (CiU)
 Esquerra Republicana de Catalunya (ERC) Iniciativa per Catalunya Verds (ICV)

